


العدد ٦

التاريخ : / /



أكتب العدد داخل المربع





٦	٦



لم يتمكن	تمكن بمساعدة المعلمة	إلى حد ما	تمكن
----------	----------------------	-----------	------

العدد ٦

التاريخ : / /



ضع دائرة حول مدلول العدد :





أكتب العدد إن أمكن :









لم يتمكن	تمكن بمساعدة المعلمة	إلى حد ما	تمكن
----------	----------------------	-----------	------

العدد ٦

التاريخ : / /



لون :



١
٢
٣
٤
٥
٦
٧
٨
٩
١٠

تمكن	إلى حد ما	تمكن بمساعدة المعلمة	لم يتمكن
------	-----------	----------------------	----------